





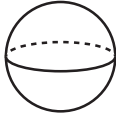
11 Aus einem 20 cm langen Draht wird ein Quadrat geformt.

Wie groß ist der Flächeninhalt des Quadrats? Kreuze an.

- 16 cm<sup>2</sup>     20 cm<sup>2</sup>     25 cm<sup>2</sup>     400 cm<sup>2</sup>

\_/1

12 Verbinde die Körper mit den zugehörigen Namen.



Prisma

Pyramide

Zylinder

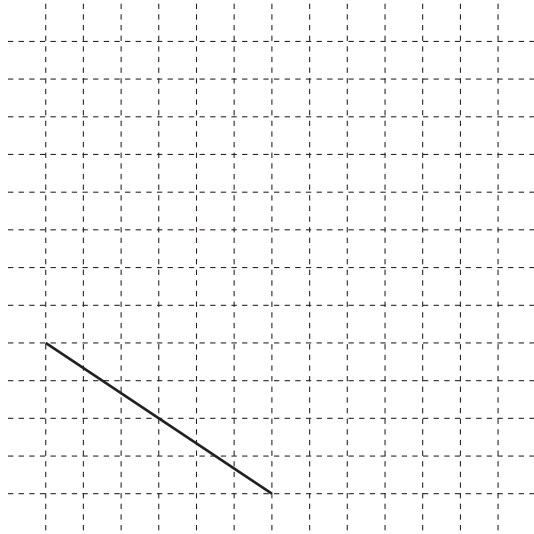
Kugel

Kreis

Quader


\_/1

13 Ergänze zu einem Quadrat.




\_/1

14 Zeichne alle Symmetrieachsen ein.



\_/1

15 Zeichne ein Rechteck, das den gleichen Flächeninhalt besitzt wie die achsensymmetrische Figur.



\_/1

